

1 かなとさんは、外国語の授業で、冬休みの出来事について英語で発表をします。発表の最後には、メアリー先生に質問をすることにしました。

英語を聞いて、次の(1)，(2)の問いに答えなさい。

(1) かなとさんが発表した内容に合うものはどれですか。次のア～エの中から1つ選び、記号でかきなさい。

ア




イ



ウ



エ



(2) かなとさんの質問に対して、メアリー先生が答えた内容として最もふさわしいものはどれですか。次のア～エの中から1つ選び、記号でかきなさい。

ア 冬につりをしたりスケートをしたりすることができるから、冬の湖が好き。

イ クリスマスと雪祭りが楽しみだから、12月が好き。

ウ スキーやスノーボードが得意で、冬の花火も美しいから、冬が好き。

エ 冬のスポーツが好きで、クリスマスも楽しむことができるから、冬が好き。

2 あおいさんは、日本に遊びに来ていたジャックさんに、町のいろいろな場所を英語で案内していました。










(1) 2人は次にどこに行くかを話しています。あおいさんとジャックさんの会話を聞いて、次の問いに答えなさい。

ジャックさんの質問に対して、あおいさんが答えた時刻は次のうちどれですか。次のア～エの中から1つ選び、記号でかきなさい。



(2) お店で昼食をとることになった2人は、メニューを見て、それぞれ注文をします。ジャックさんと店員さんとの英語でのやり取りの一部を聞いて、次の①、②の問いに答えなさい。

**MENU**

 hamburger 250 yen	 sandwich 300 yen	 pizza 550 yen
 salad 300 yen	 fried chicken 280 yen	 French fries 240 yen
 ice cream 200 yen	 milk 150 yen	 orange juice 180 yen

① ジャックさんが、最後に店員さんにたずねていたのはどのようなことですか。次のア～エの中から1つ選び、記号でかきなさい。

ア 注文したものの金額

イ 注文したものの数

ウ おすすめのメニュー

エ 座る場所

② ジャックさんが注文したものの合計金額は、いくらになりますか。金額を算用数字でかきなさい。ただし、消費税はメニュー表の金額にふくまれていることとします。

解答欄

<b>1</b>	(1)			(2)	
	(1)				
<b>2</b>	(2)	①		②	円