

キビタン©福島県

# ～ふくしま統計出前授業～

## 平田村立蓬田小学校



ふくしま応援！ベコ太郎

## 福島県企画調整部統計課

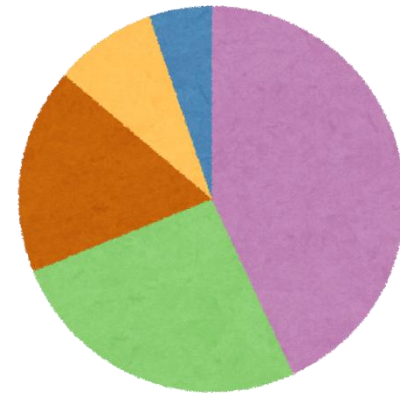
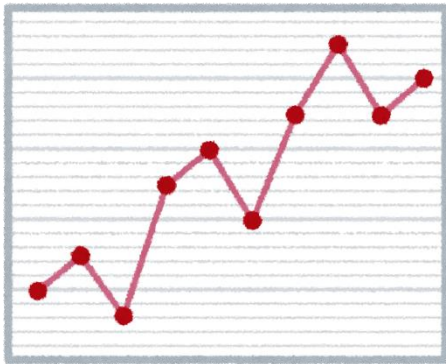
# 福島県




# 今日のおはなし

1 平田村の人口を統計で見よう

2 クイズに挑戦しよう!



# 1 平田村の人口を統計で見よう



平田村の人口は何人でしょうか？  
(令和5年10月1日現在)

①3,333人

②4,444人

③5,555人

④6,666人

正解

③5,555人

では、どの年齢の人が多くでしょうか？  
(令和5年10月1日現在)

① 10～14歳

② 35～39歳

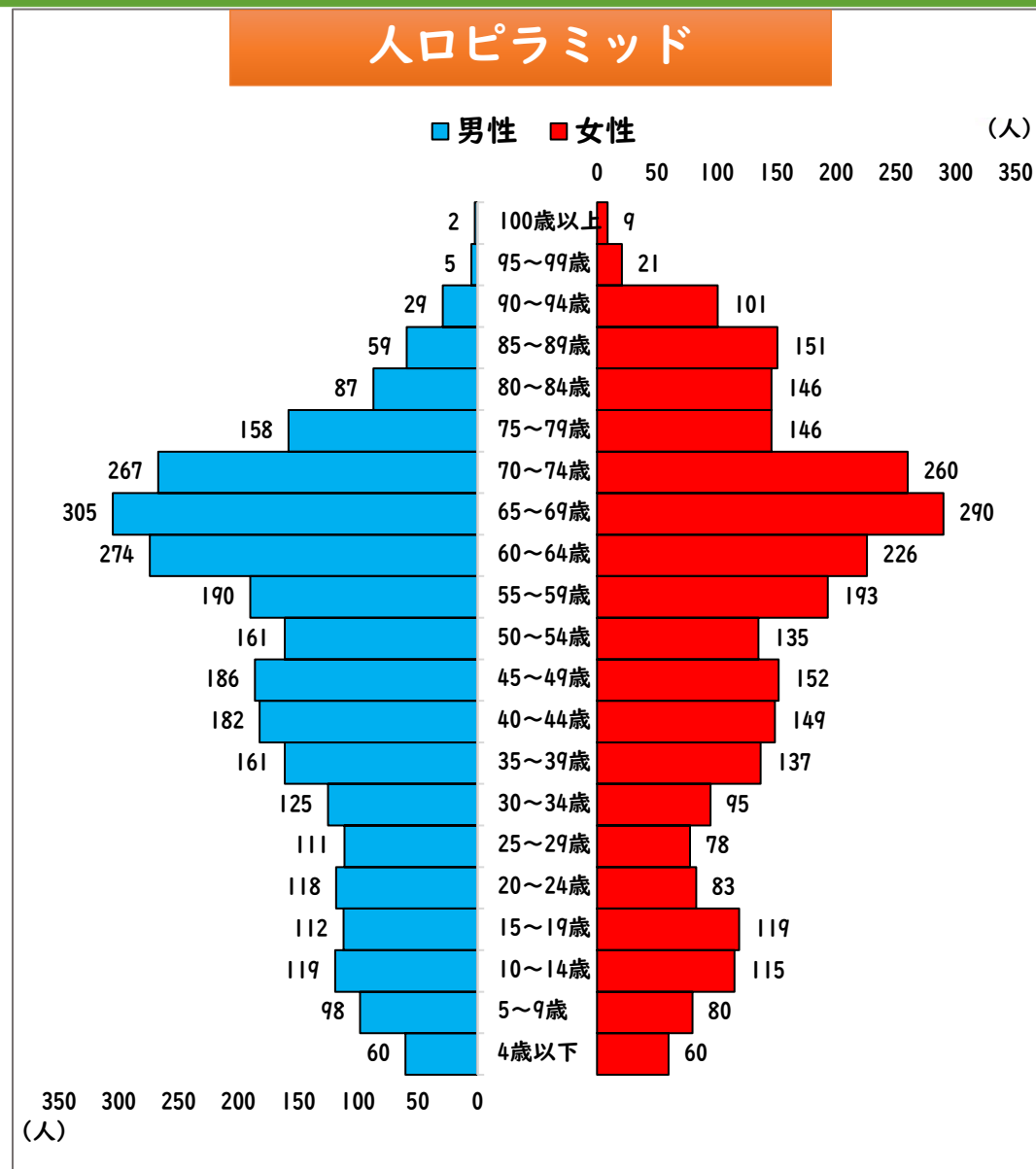
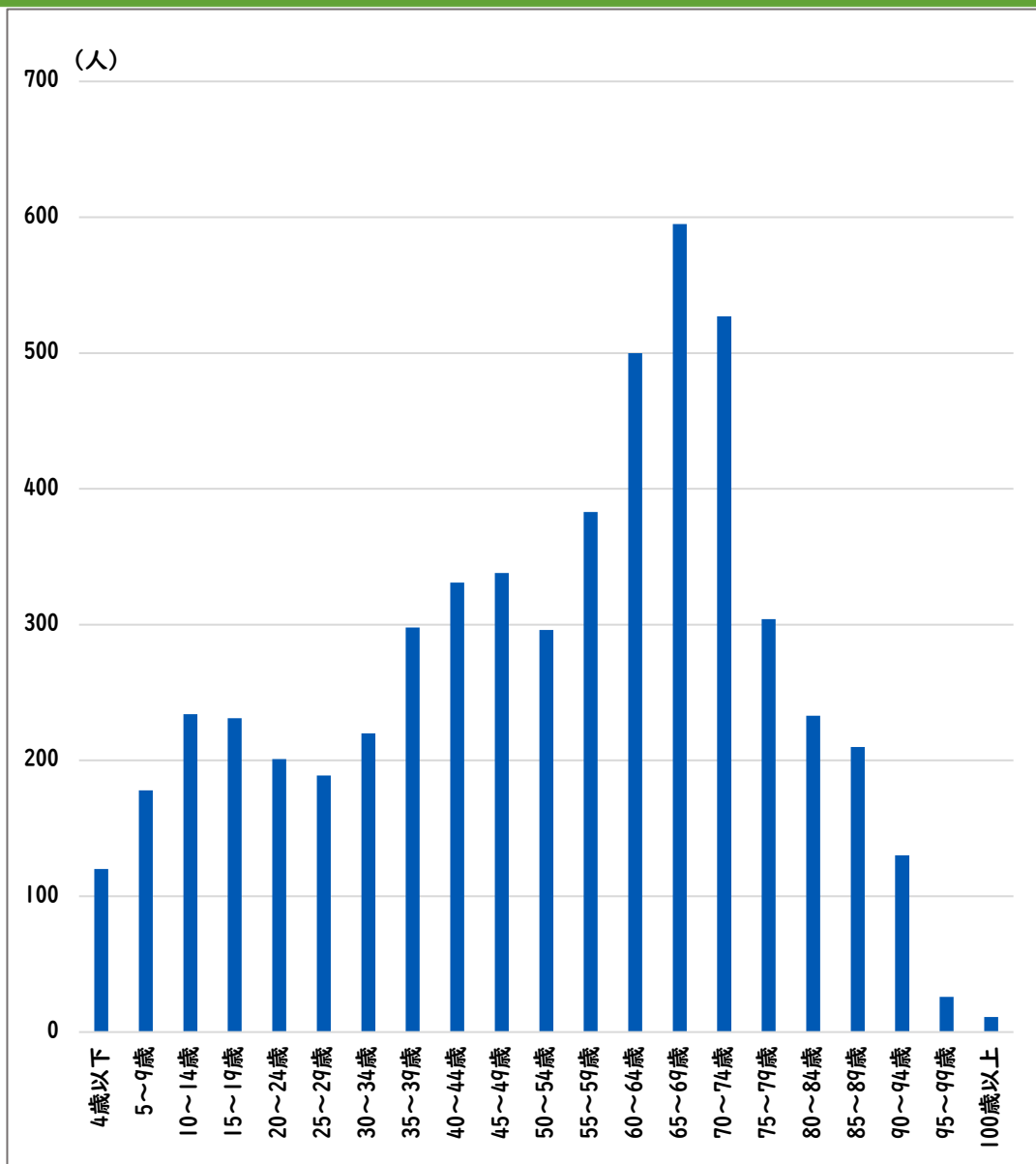
③ 65～69歳

④ 90～94歳

正解

③65～69歳

# 平田村の年齢別人口（5歳階級）（令和5年10月1日現在）

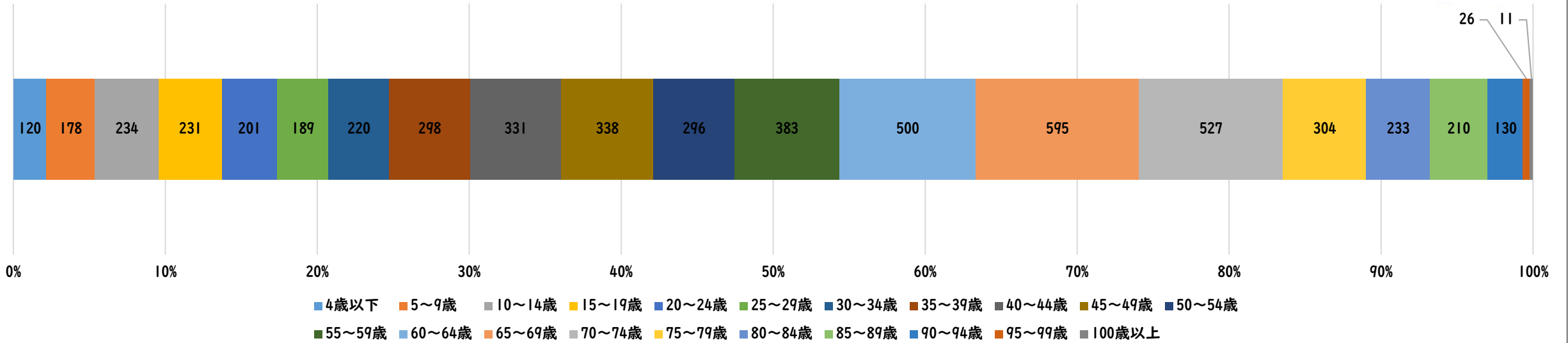




# 平田村の年齢別人口（令和5年10月1日現在）

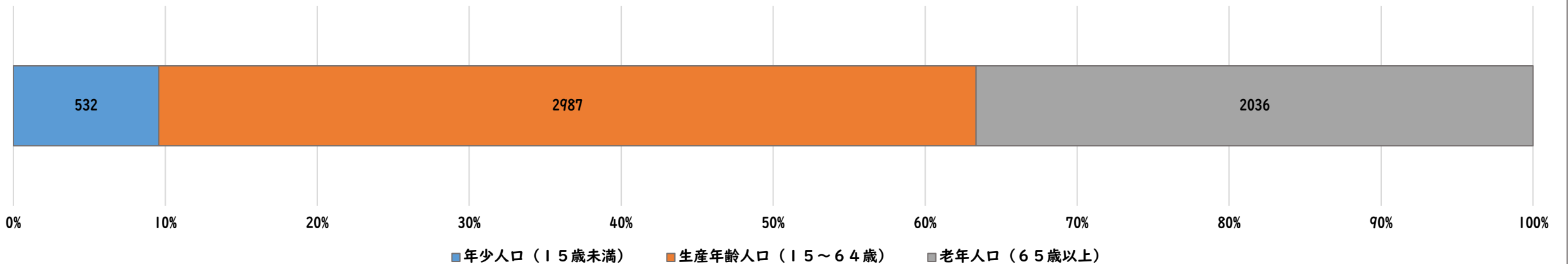
## 5歳階級別割合

(人)

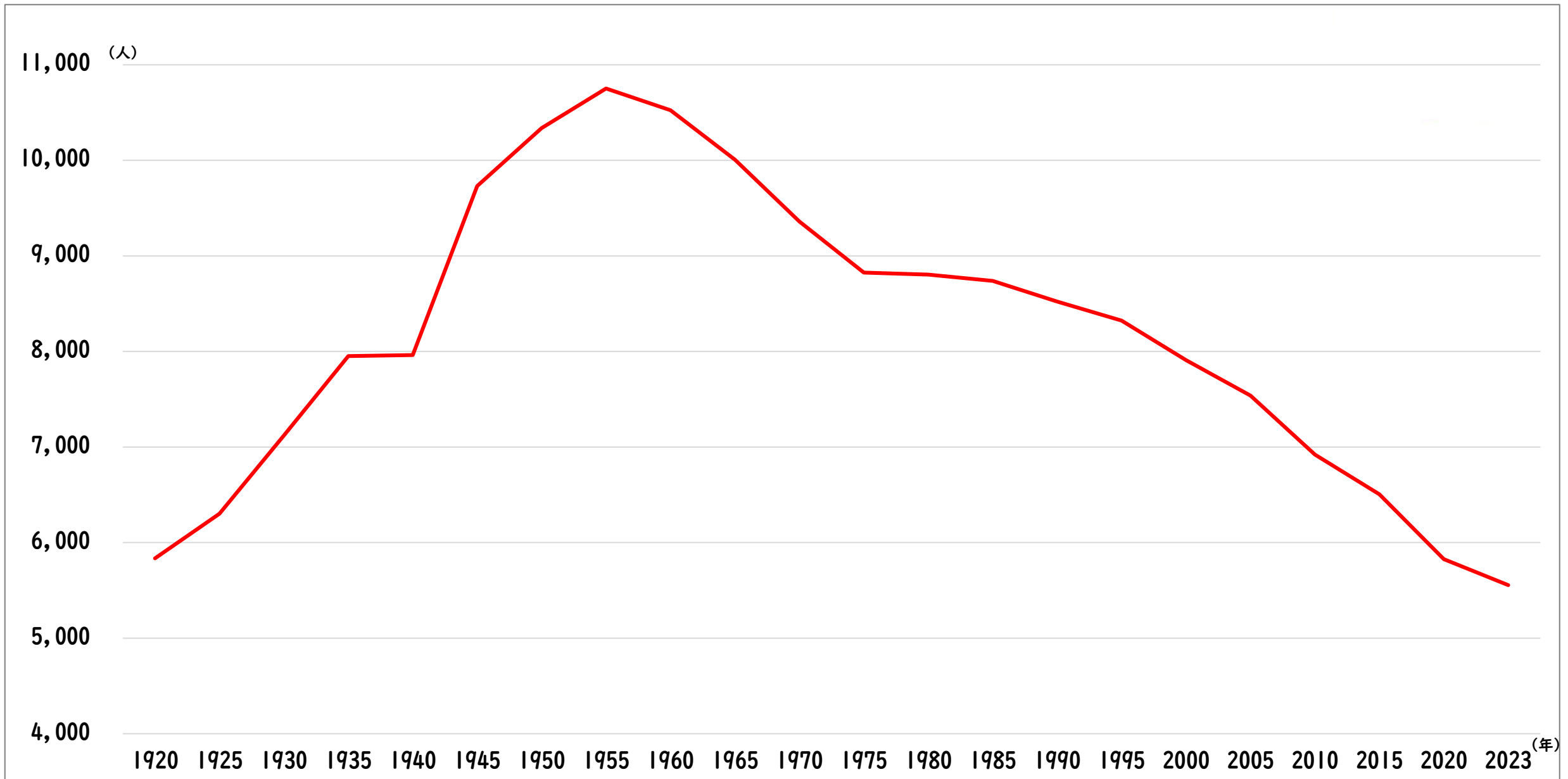


## 年齢3区分別人口

(人)



# 平田村の人口のうつりかわり



では、どの地域に人が多く  
住んでいるでしょうか？  
(令和2年10月1日現在)

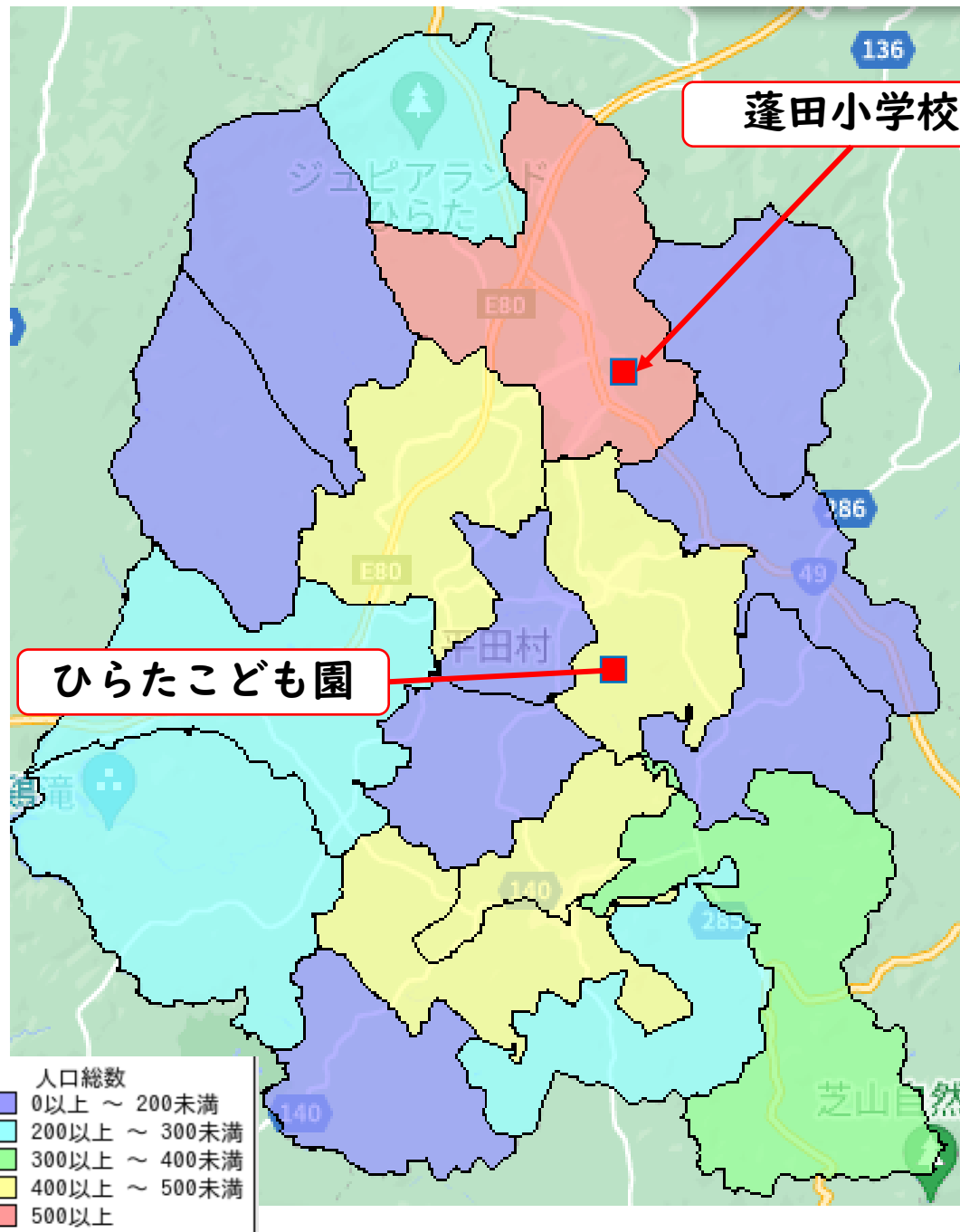
①上蓬田 (蓬田小学校のあるところ)

②永田 (ひらたこども園のあるところ)


③蓬田新田 (ジュピアランドひらたのあるところ)

# 正解

①上蓬田（蓬田小学校のあるところ）



住んでいる人が  
多い地域には  
学校などが必要



それを知るために  
統計が大切


# 統計とは

データを集めてグラフなどで表現して、

とくちょう

データの特徴を見つけること

# 身近で活躍している統計たち



## スポーツ


- ・自分やチームの弱点や強みを見つける
- ・理想的なフォームやパターンを見つける

## 勉強

- ・テストの平均点などと比べることで、自分の学力を知る

## 買い物

- ・いつ、誰に、どんな商品が売れているかを知る  
⇒新商品の開発や、おすすめの商品を紹介することに役立つ



## 2 クイズに挑戦しよう！





「道の駅ひらた」といえばハバネロで有名ですが、ハバネロの辛さは何SHU(スコヴィル値)でしょうか？

①約350SHU


②約3,500SHU

③約35,000SHU

④約350,000SHU

<スコヴィル値>  
唐辛子エキス1gを100g  
の砂糖水（砂糖は1g）  
で薄めたときに  
辛くなくなったら、  
100SHUと表す





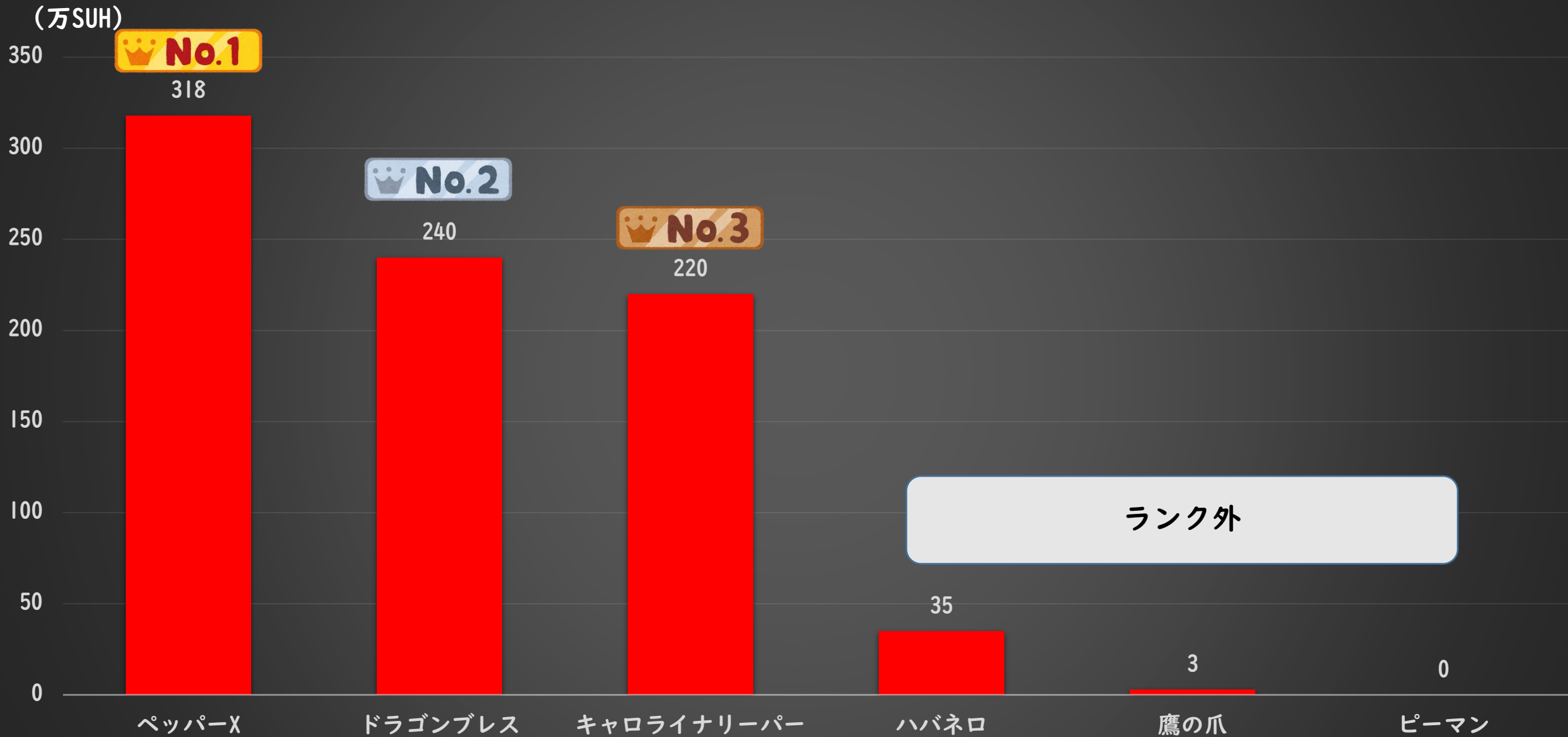
正解



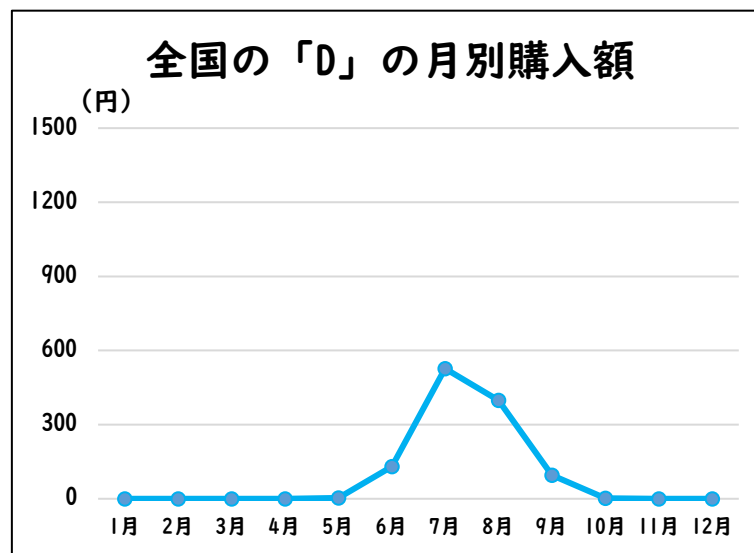
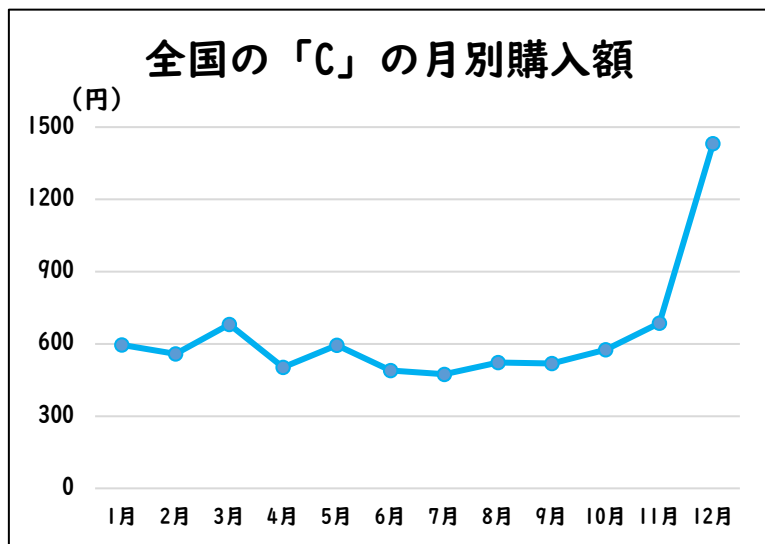
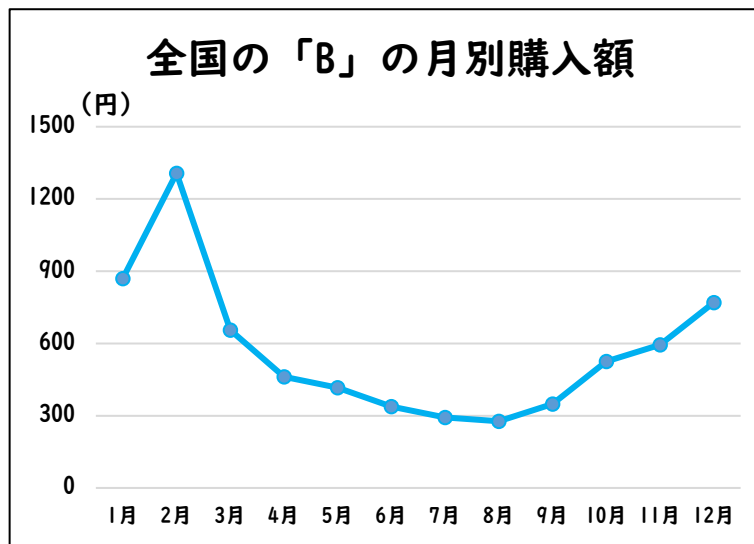
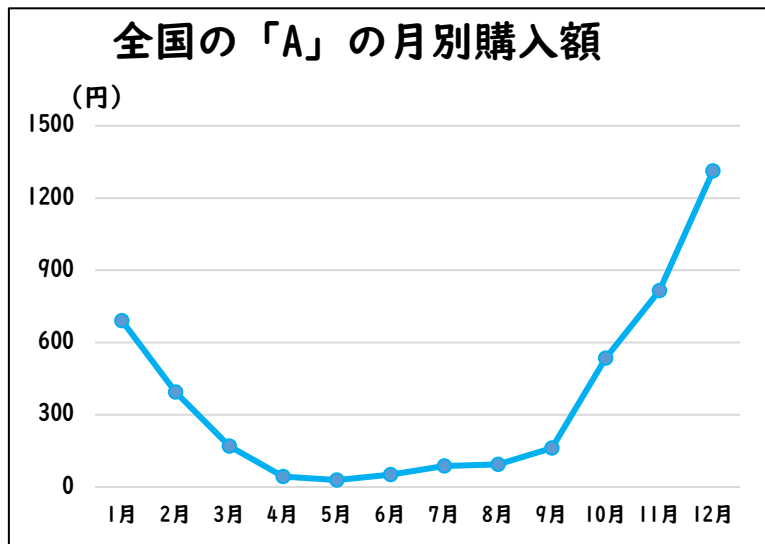
④約350,000SUH



# 唐辛子辛さランキング



# この食べ物はなんでしょう？（クイズ）



A～Dのグラフが  
①～④のどの食べ物を  
指しているのかを  
考えてみよう！

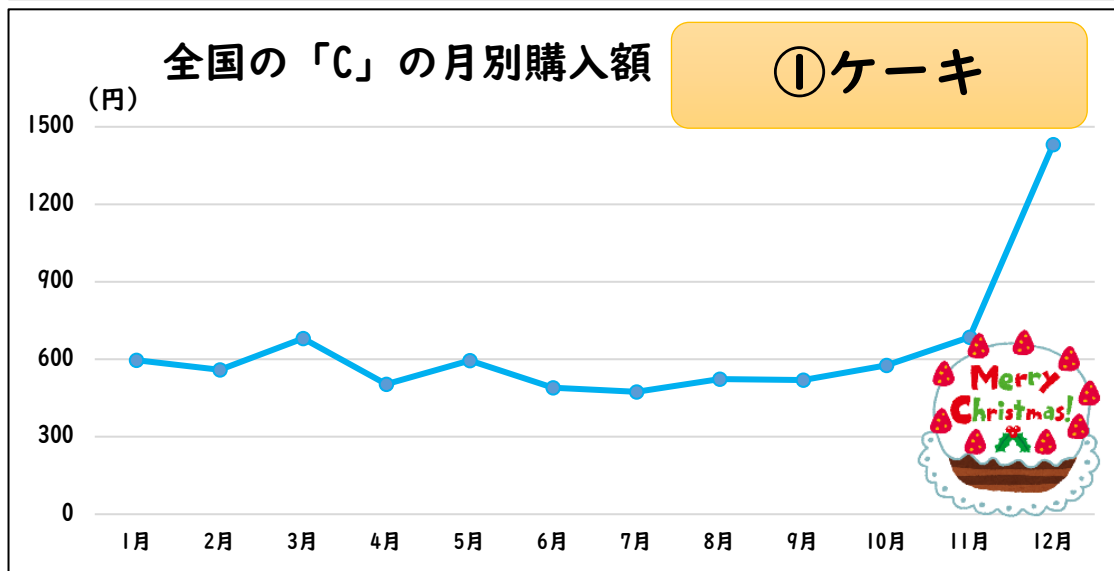
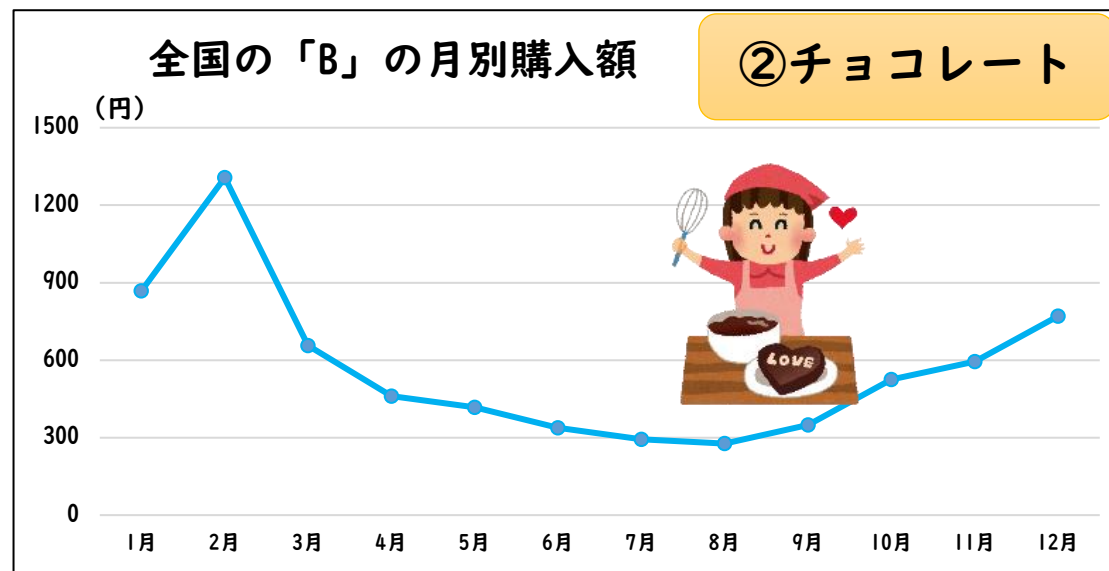
① ケーキ

② チョコレート


③ みかん

④ 桃

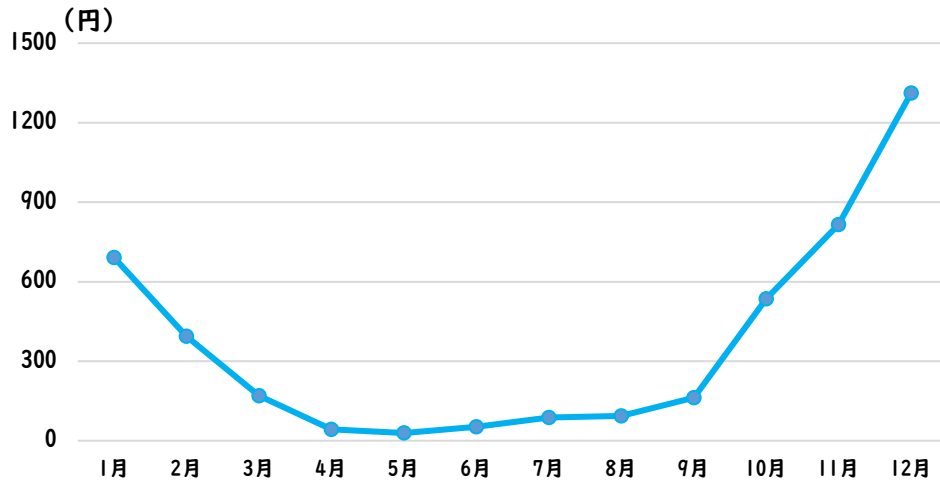
# この食べ物はなんでしょう？（正解）



# この食べ物はなんでしょう？（解説）



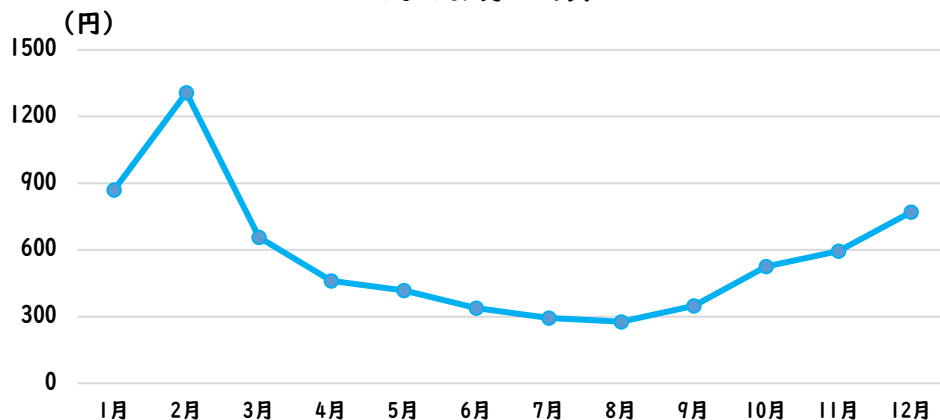
## 全国の「みかん」の月別購入額



- みかんの旬は9月～3月
- 2022年の出荷量は全国で613,000トン  
1個100gとすると61億3,000万個
- 2022年の出荷量日本一は和歌山県で、  
137,900トン



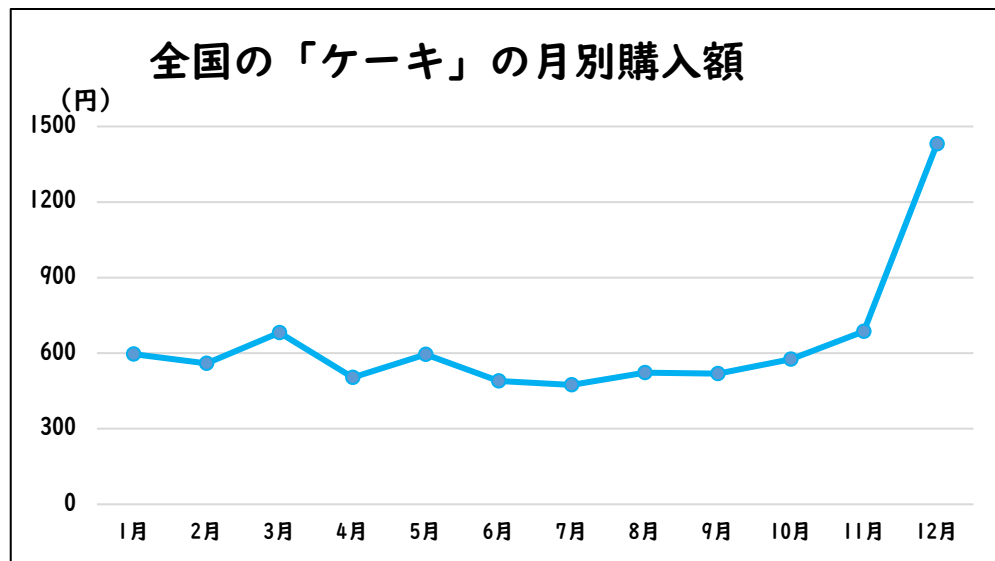
## 全国の「チョコレート」の月別購入額



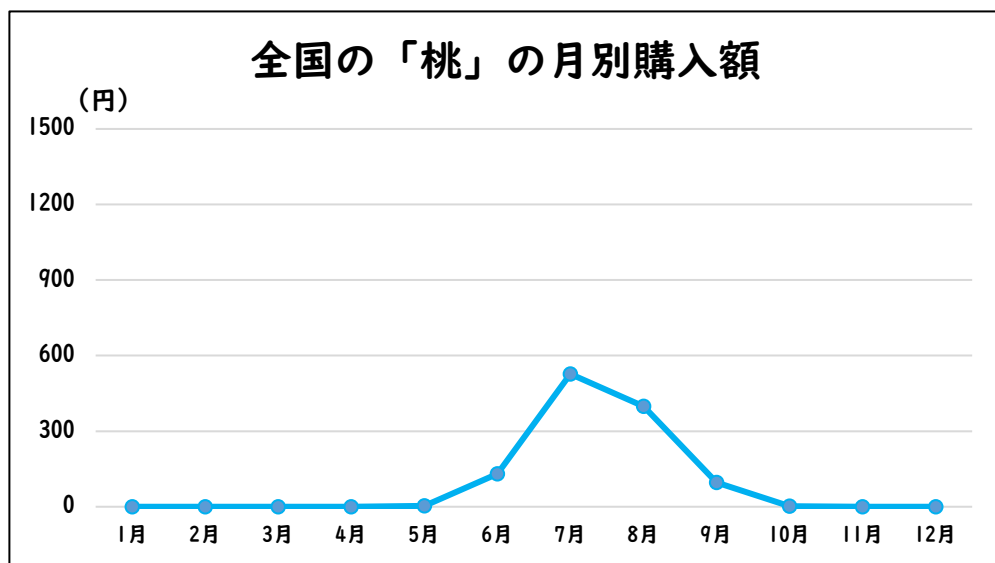
- バレンタインデーのある2月に  
購入額が急上昇する
- 2023年の生産量は240,204トン  
小売金額は6,040億円



# この食べ物はなんでしょう？（解説）



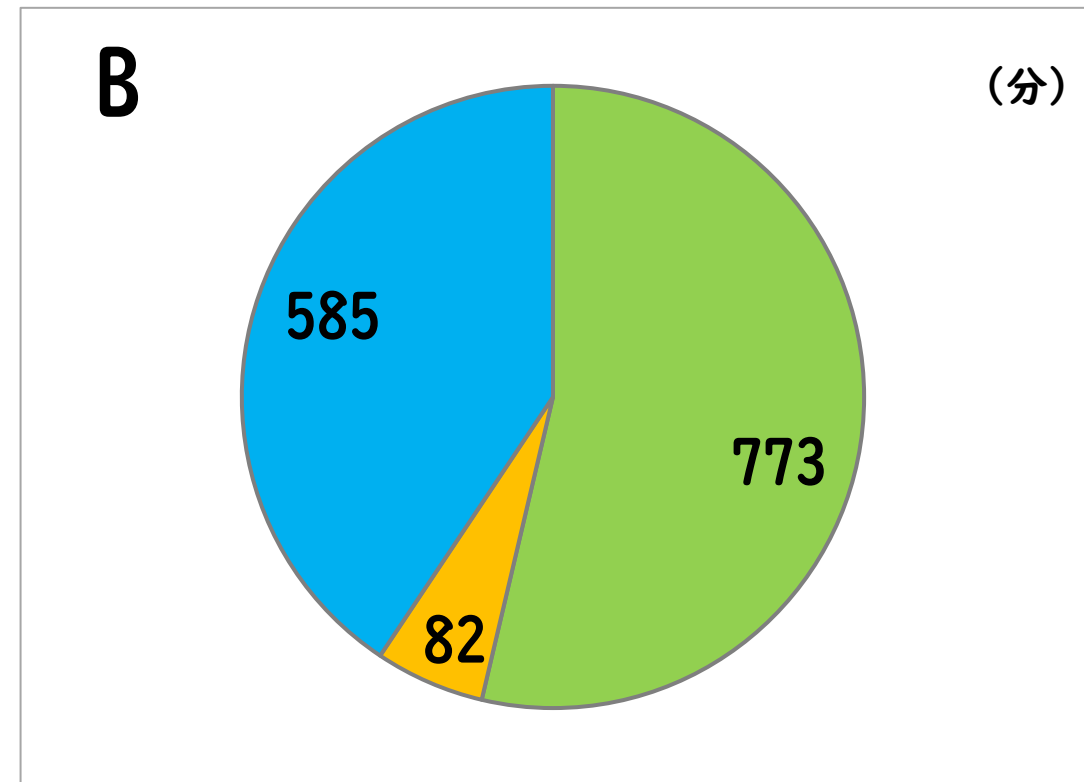
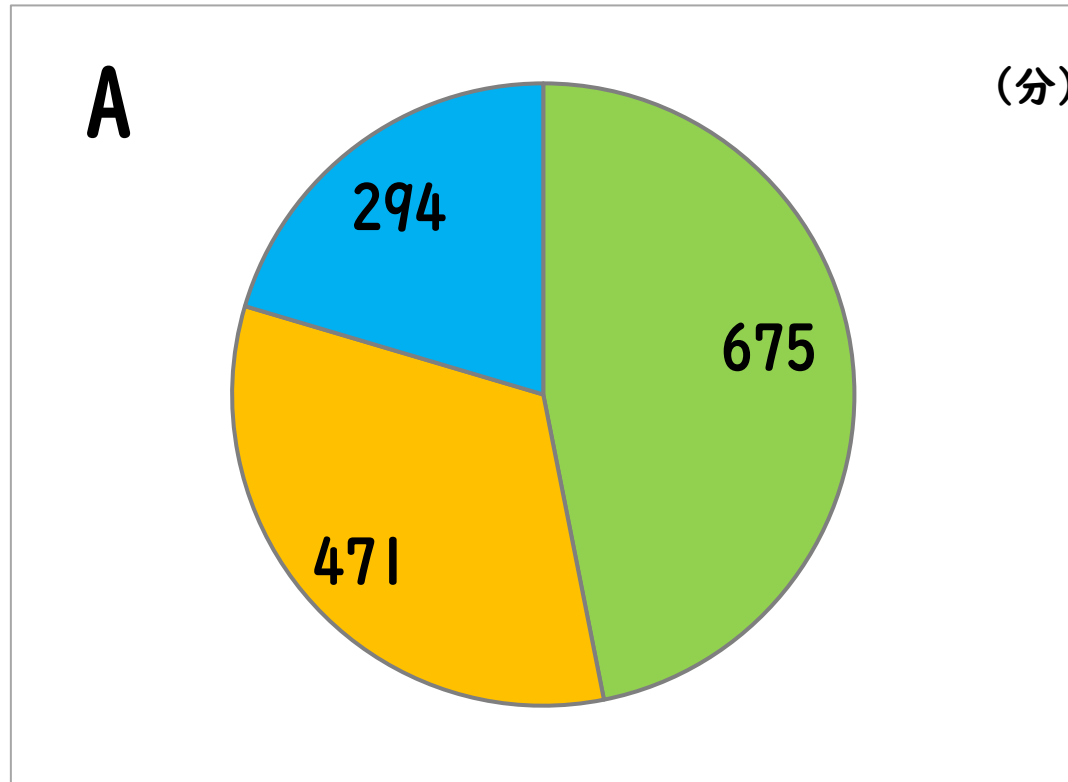
- ・ クリスマスのある12月に購入額が急上昇する
- ・ ケーキは誕生日などでも購入するため、その他の月でも売上が安定している



- ・ 桃の旬は7月～8月
- ・ 2023年の出荷量は全国で101,900トン  
1個250gとすると4億760万個
- ・ 2023年の出荷量日本一は山梨県で、32,000トン  
福島県は2位で、26,500トン



小学生の1日の過ごし方を平日と日曜日でそれぞれ円グラフにしたものです。  
AとBのそれぞれどちらが「平日」と「日曜日」でしょうか？



1次活動：睡眠、身の回りの用事、食事

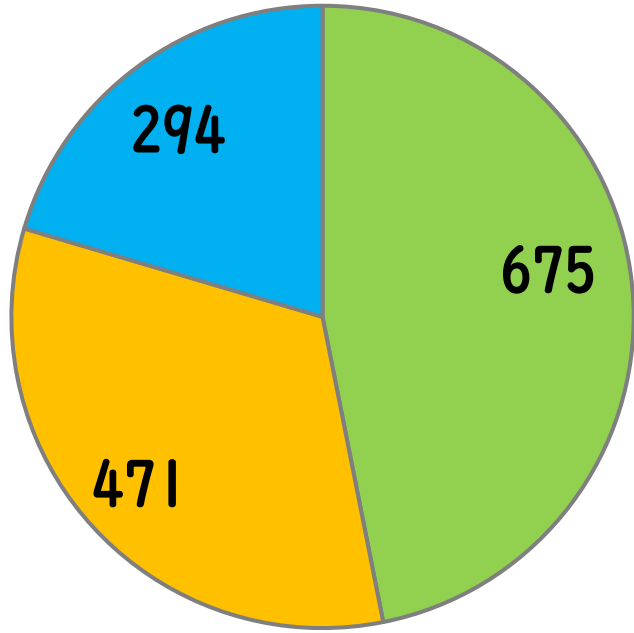
2次活動：通勤・通学、仕事、学業、家事、介護・看護、育児、買い物

3次活動：移動（通勤・通学時間を除く）、テレビ・ラジオ・新聞・雑誌、休養・くつろぎ、学習・自己啓発・訓練（学業以外）、趣味・娯楽、スポーツ、社会的活動、交際・付き合い、受診・療養、その他



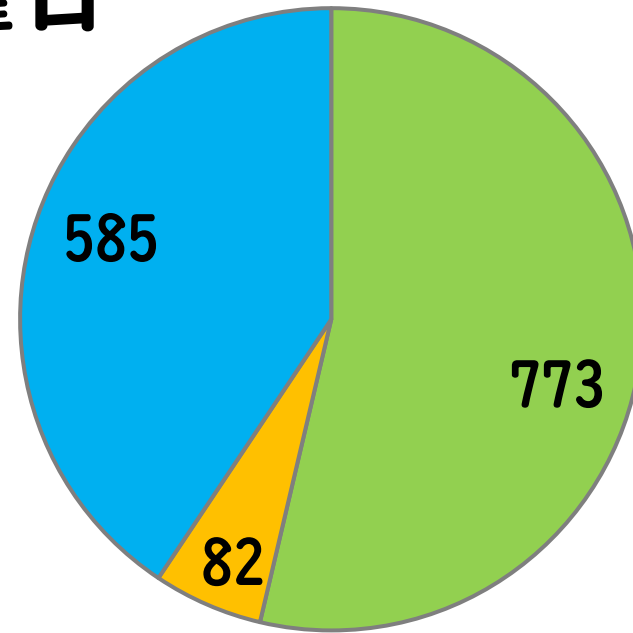
# 正解

平日



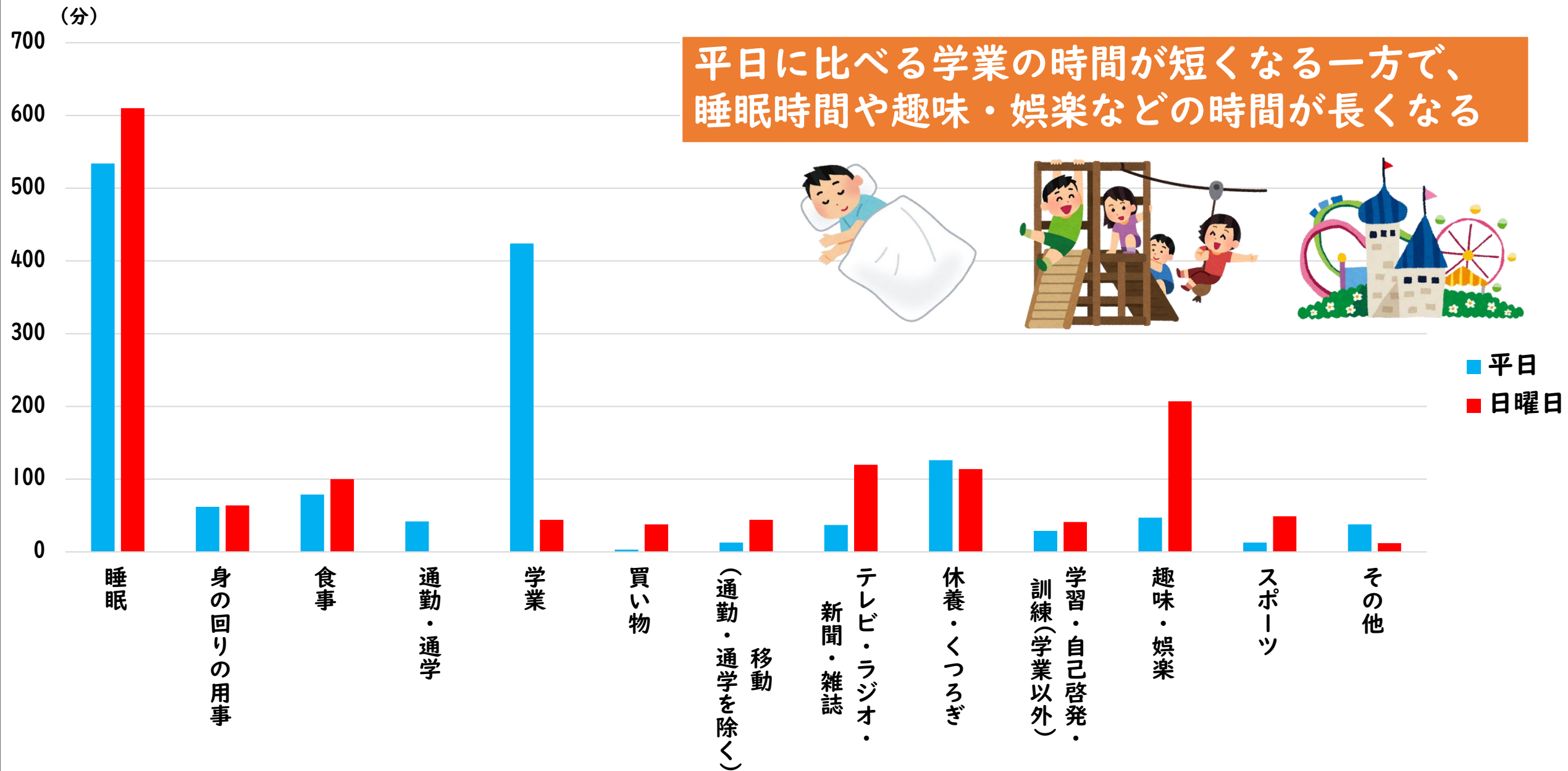
(分)


日曜日



(分)

# それぞれの活動時間のうちわけ





あれこれランキングトップ3

**もも支出金額**  
全国第1位

7,386円  
(令和3年～令和5年平均)  
出典：総務省「家計調査（二人以上の世帯）  
品目別都道府県所在地及び政令指定都市  
ランキング」



**全国醤油  
品評会  
入賞数**  
全国第1位

11品  
(令和6年度)  
出典：日本醤油協会「全国醤油品評会」

**干し柿生産量**  
全国第2位

792t(令和3年)  
出典：農林水産省  
「特産果樹生産動態等調査」

**漆器製台所・  
食卓用品**  
出荷額

全国第2位  
17億円(令和4年)  
出典：総務省・経済産業省  
「経済構造実態調査」

**もも収穫量**  
全国第2位  
27,700t(令和4年)  
出典：農林水産省「作物統計」



**夏秋きゅうり収穫量**  
全国第1位  
33,300t(令和4年)  
出典：農林水産省「作物統計」



**太陽光発電発電量**  
全国第1位  
2,260MWh(令和5年度)  
出典：資源エネルギー庁「電力調査統計 都道府県別発電実績」



**福島県**  
都道府県面積 全国第3位  
13,784.39km<sup>2</sup>(令和6年4月)  
出典：国土地理院「全国都道府県市区町村別面積調」



**桐材  
生産量**

全国第1位  
184.5m<sup>3</sup>(令和5年)  
出典：農林水産省  
「特用林産物生産統計調査」



**全国新酒鑑評会  
金賞受賞数**

全国第2位 18銘柄(令和5酒造年度)  
出典：独立行政法人酒類総合研究所・日本酒造組合  
中央会「全国新酒鑑評会」



**馬肉生産量**  
全国第2位  
893t(令和5年)

出典：農林水産省「畜産物流通調査」



**こい(養殖)  
収穫量**

全国第2位  
646t(令和4年)  
出典：農林水産省  
「内水面漁業生産統計調査」

とうけい  
「統計は、みんなで作り、  
みんなで社会にいかすもの」



統計はみんなの暮らしを  
支える大切なもの。  
お家に帰ったら今日学んだ  
ことをぜひ、家族のみんなに  
おはなししてね♪

